
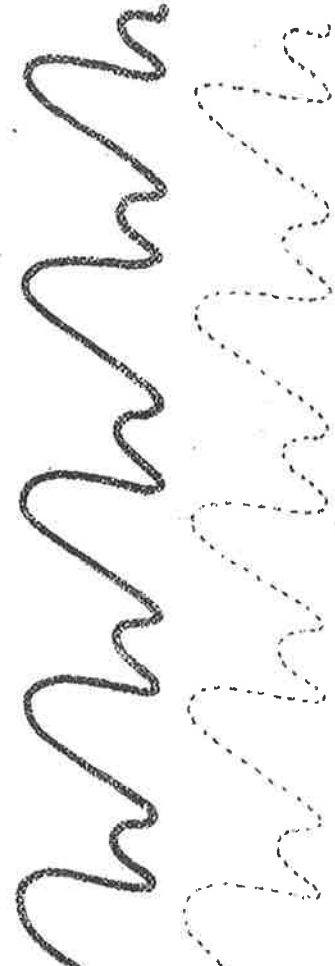
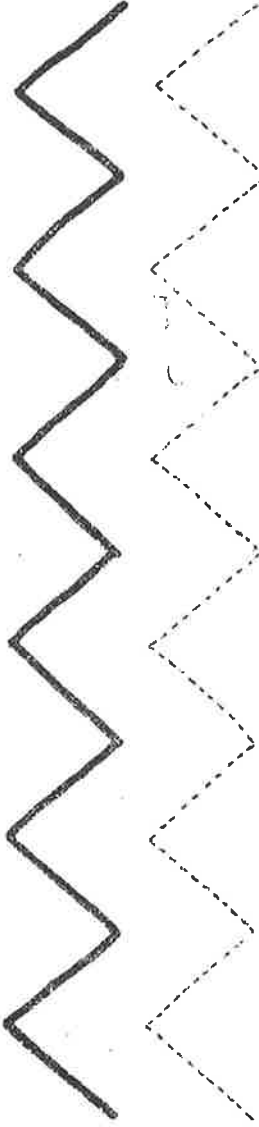
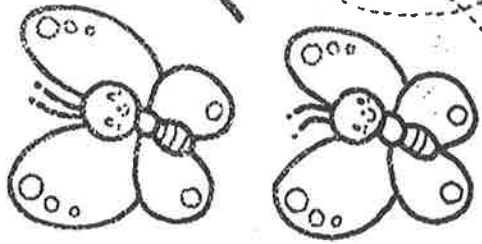




ただしい えんぴつの もちかたで かいてみましょう。


※ふとい せんを なぞってから、てんせんの うえを かき
ましよう。かけたら、いろも ぬりましよう。



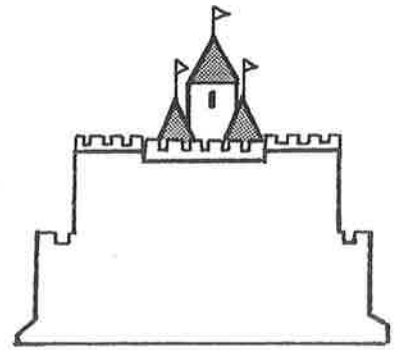
----- を かんがひて ねんご、 ねを かんがひてね

おとこ

6がら8いさ 1にうた



6がつ 8にち
2こうじ



なんばんめ

がつ にち

① くるまが ならんでいます。



- ① ぶるどうざあは、まえから ばんめ
- ② きゆうきゆうしゃは、うしろから ばんめ
- ③ しょうぼうしゃは、まえから ばんめ
- ④ たんくろうりいは、うしろから ばんめ
- ⑤ ぜんぶで なんだい あるでしょうか。 だい

② ○で かこみましょう。

みぎから 5ひき



ひだりから 4ばんめ




6がつ 8にち
2こうじ



なんばんめ

がつ にち

🐭 したの えを みて, こたえを かきましょう。



① いちばん したは こあらです。
したから 3ばんめの
どうぶつに いろを ぬりましょう。

② さるは, うえから
なんばんめ でしょうか。

ばんめ

③ ぶたは, したから
なんばんめ でしょうか。

ばんめ

④ ぜんぶで なんびき
いるでしょうか。

びき

6がつ9にちーこうじ

がつ にち なまえ

□に、あうじを えらんで かきましよう。

お.をお.を

① □ □

きな くち

□

お.を

あける。



② □ わは たし □ わは

□ わは

しりが

□ わは

やいです。



③ □ え.へ き □ え.へ

いく。



④ いぬが まぶし □ お.を

ひっぱる。

⑤ □ お.を かね □ お.を

おとす。



がつ にち なまえ

□に、あうじを えらんで かきましよう。

おをおを

えへ

①

いそぎで

か

る。



②

やの


なか

いる。

えへ

えへ

わは



③

あかちゃん

んぶ

する。

おを

おを



④

やっど、

かぶ

ぬけました。

わは



⑤

にの

くち


きい。

わは

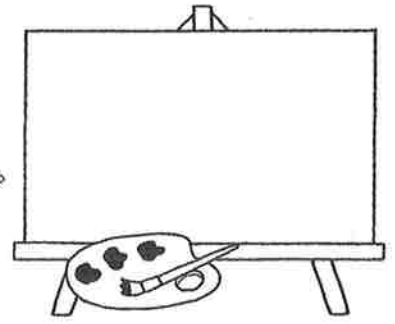
わは

おをおを

おをおを




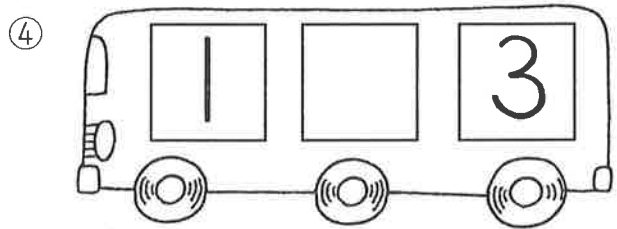


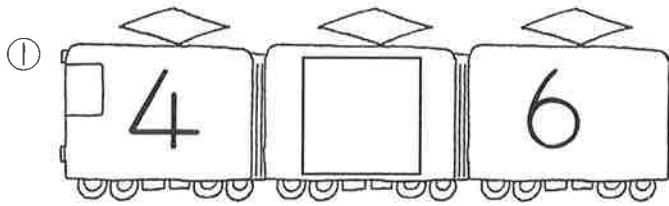
6がつ 9にち
2こうじ



10までの かず

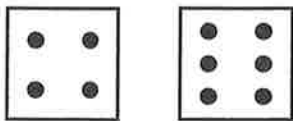
がつ にち

1 □ に かずを かきましょう。

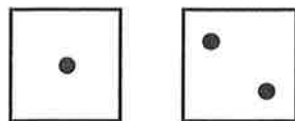


2 おおきいほうに ○を つけましょう。

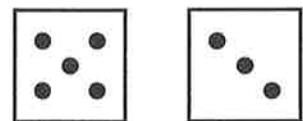
①



②




③



④



⑤



⑥



⑦



⑧



⑨



6がつ10にちーこうじ

がつ にち なまえ

□に、□の・□と・□が・□に・□でをいれてぶんをつくりましょう。

① ひまわり

□


さく。



② いぬ

□

ねこ。



③ むしとり

□

いく。



④ わたし

□

ぼうし。



⑤ ひろば

□


あそぶ。



⑥ うま

□

はしる。




6がつ10にちーこうじ

がつ にち なまえ

□に、□の・□と・□が・□に・□でをいれてぶんをつくりましょう。


① くるま



ふね。




② いもうと



なく。




③ こま



あそぶ。




④ ふろ



はいる。




⑤ おとうと



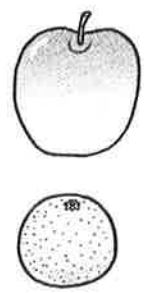
かさ。




⑥ りんご



みかん。



6がつ 9にち
2こうじ


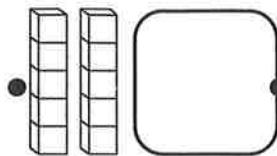


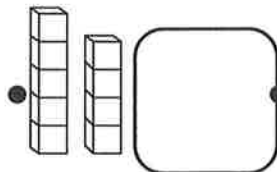
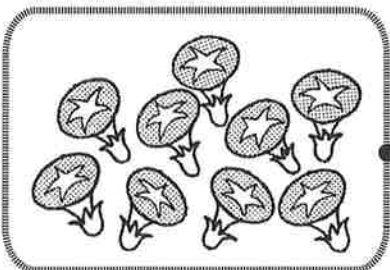
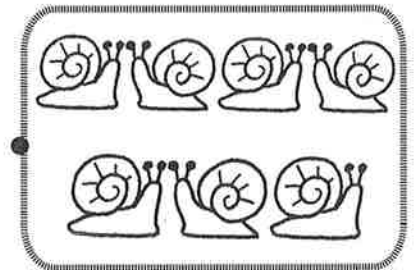
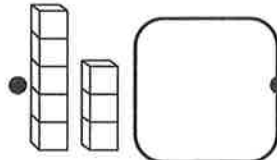


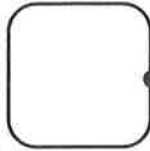
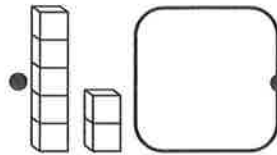
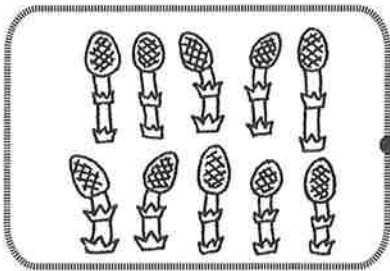
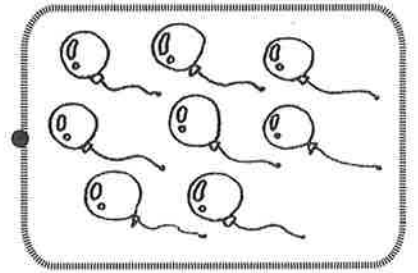
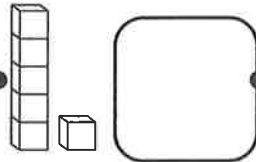
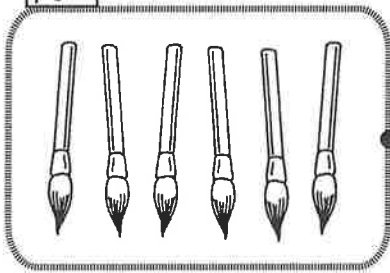


10までの かず

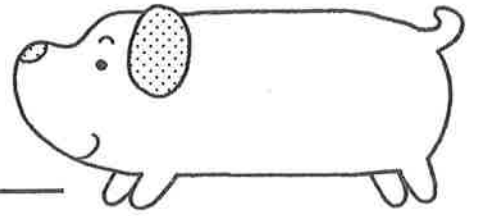
がつ にち

● ブロックの かずを □ に かきましょう。れいの
ように せんで むすびましょう。

れい



6がつ10にち
2こうじ



いくつと いくつ

がつ にち

あいて いる □ に かずを かきましょう。

①

7	
5	

②

9	
	2

③

6	
1	

④

8	
3	

⑤

8	
4	

⑥

7	
6	

⑦

6	
	2

⑧

9	
	4

⑨

6	
5	

⑩

7	
	3

⑪

8	
	7

⑫

9	
6	

⑬

9	
5	

⑭

6	
3	

⑮


7	
4	

⑯

8	
5	



6がつ 10にち
2こうじ

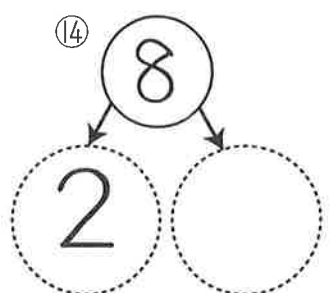
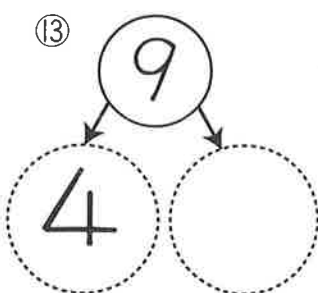
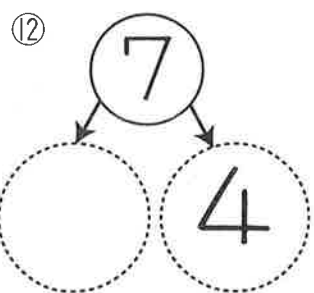
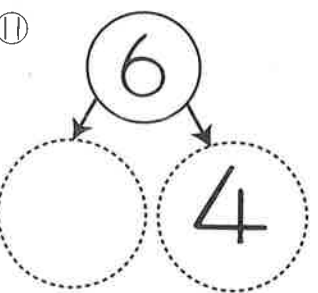
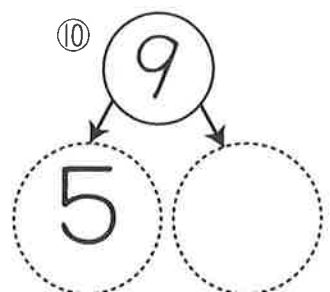
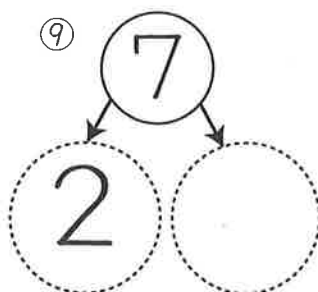
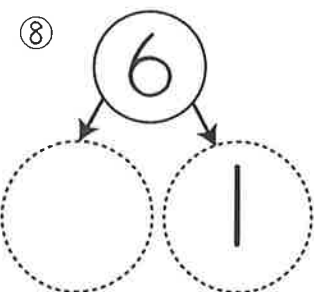
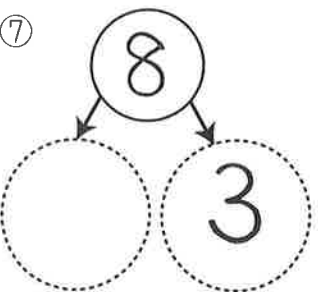
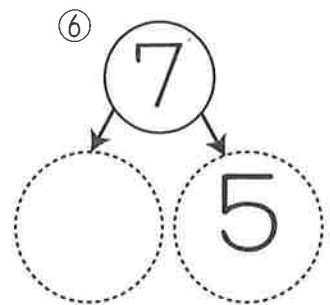
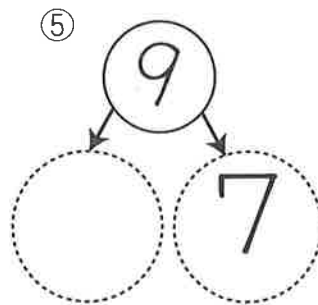
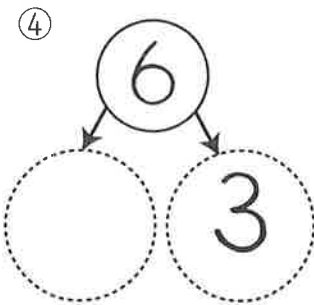
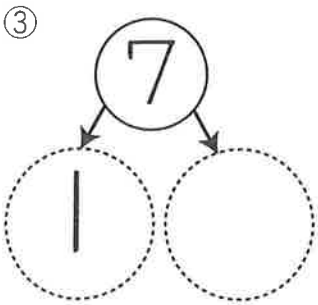
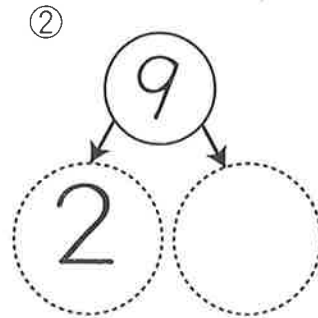
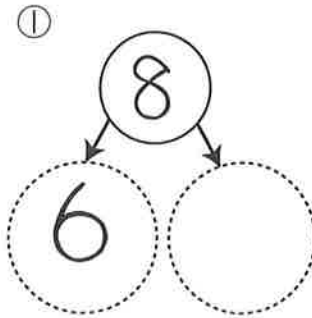
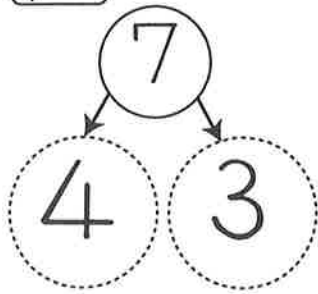


いくつと いくつ

がつ にち

🍎 れいのように ○ に あう かずを かきましょう。

れい



ともだち

ともだち いるよ、


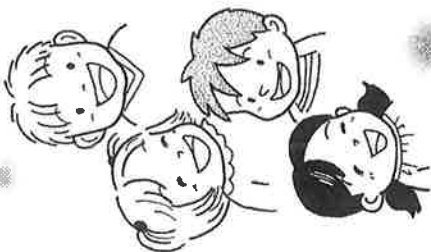
いっばい いるよ。

いちねんせいだよ、

みんな、みんな。


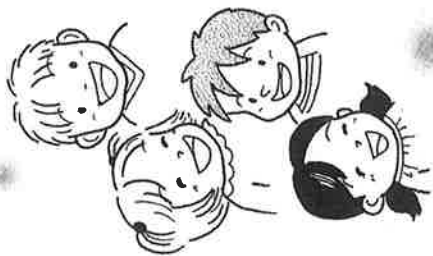
あっはっはっは、

いっばい、いっばい。



6がアニキーニハシ

なまえ

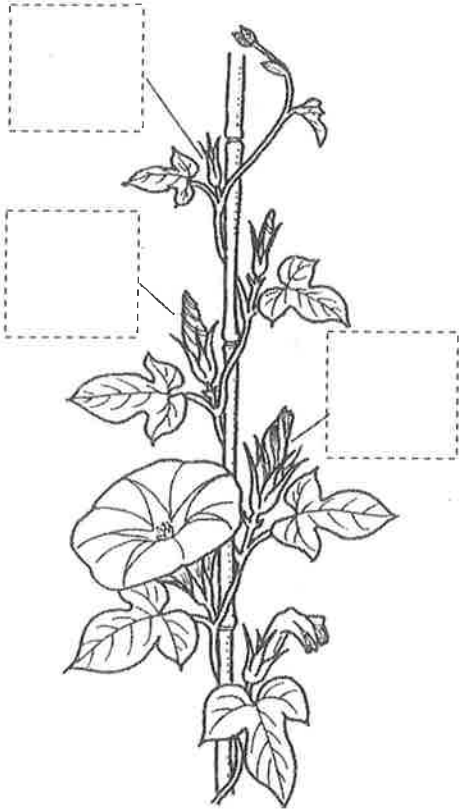


6がつ 11にち
2こうじ

あさがお②

がつ にち

[1] あさがおに あかい はなが さきました。



(1) あす、はなが さきそうな つぼみに、○をつけましょう。

(2) きょう さいた はなは、あすも さくでしょうか。 ただしいほうに ○をしましょう。

① () また、あすも さきます。

② () あすは、さかないでしょう。

[2] あさがおの つぼみから たねまで かわっていく じゅんばんを 1・2・3・4・5の ばんごうで かきましよう。




①

②

③

④

⑤



6がつ11にち
2こうい

あさがお①

かつ にち

[1] あさがおの たねに ○をしましょう。

①



()

②



()

③



()

④



()

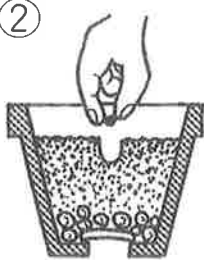
[2] あさがおの たねの まきかたの じゅんばんに 1・2・3・4の ばんごうを かきましよう。

①



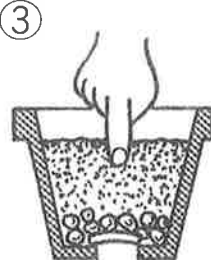
()

②



()

③



()

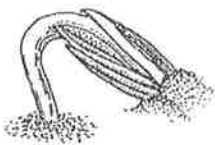
④



()

[3] あさがおの めが でてきました。 あさがおの めに ○を しましよう。

①



②



③



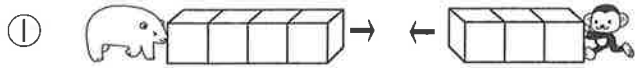
6がつ11にち
3こうじ



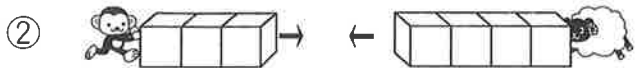
9までの たしざん

がつ にち

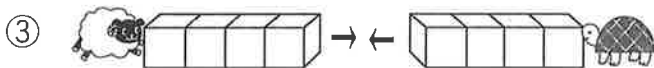
① たしざんを しましょう。



$$4 + 3 =$$




$$3 + 4 =$$



$$4 + 4 =$$



$$4 + 2 =$$




$$2 + 4 =$$



$$3 + 3 =$$


② さかなつりを しました。あかい さかなが 5ひき、
くろい さかなが 2ひき つれました。ぜんぶで なんび
きに なりますか。

しき



こたえ _____

6がつ11にち
3こうじ



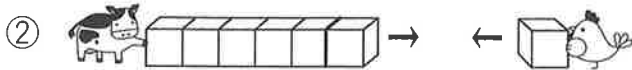
9までの たしざん

がつ にち

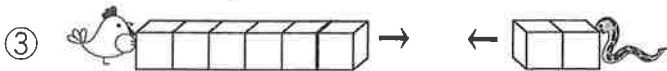
④ ずをみて けいさんを しましょう。



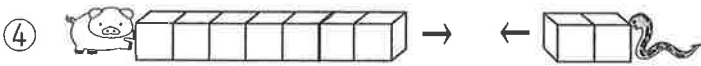
$6 + 3 =$



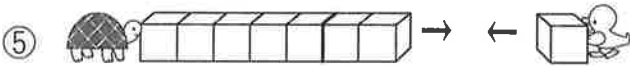
$6 + 1 =$



$6 + 2 =$



$7 + 2 =$



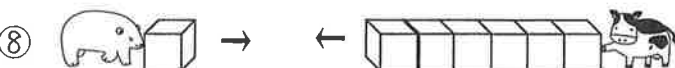
$7 + 1 =$



$1 + 7 =$



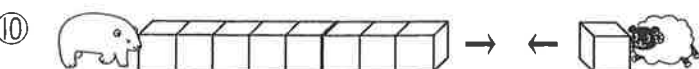
$3 + 6 =$



$1 + 6 =$



$2 + 6 =$



$8 + 1 =$